

الأخصاء



الدراسات الاجتماعية

الصف ٢ الإعدادي

مقترح النماذج الاسترشادية لشهر نوفمبر

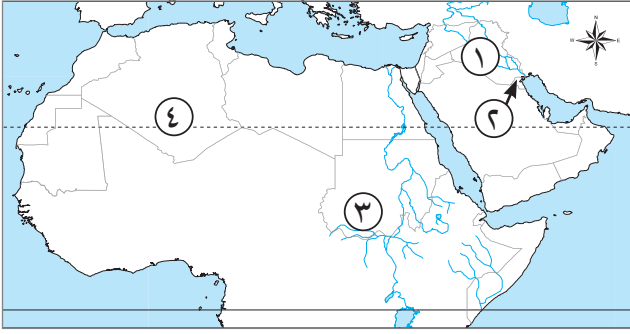
العام الدراسي

2024 - 2023

نموذج (١)

السؤال الأول

أمامك خريطة صماء للوطن العربي، وضح ما تدل عليه الأرقام:



- ١ الكثافة السكانية في المنطقة المشار إليها
- ٢ دولة بها عجز سكاني
- ٣ إقليم مناخي
- ٤ الحشائش

السؤال الثاني

أكمل الجدول التالي بما يناسبه من كلمات:

الإقليم المناخي	من الدول التي تنتمي بعض أجزائها إليه	النبات الطبيعي
البحر المتوسط (١) و (٢) و
..... (٣)	يقع بين إقليم البحر المتوسط شمالاً والإقليم (٤) جنوباً	النباتات الشوكية

السؤال الثالث

اكتب كلمة (صواب) أمام العبارة الصحيحة، وكلمة (خطأ) أمام العبارة غير الصحيحة:

- ١ تعتبر دار الندوة أول مدرسة في الإسلام. (.....)
- ٢ من نتائج بيععة العقبة الثانية إرسال مصعب بن عمير من أهل يثرب. (.....)
- ٣ قام يهود بنى النضير بتحريض الأحزاب ضد المسلمين سنة ٥ هـ. (.....)

السؤال الرابع

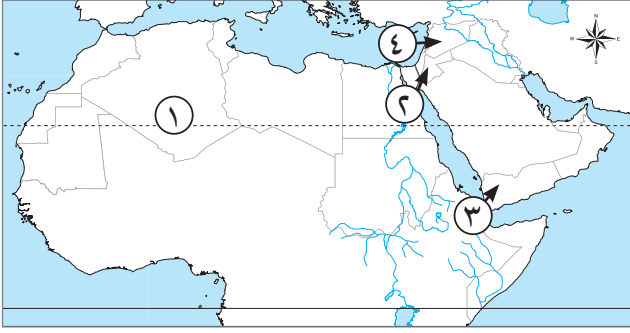
أعط دليلاً تاريخياً على ما يلي:

- يعد صلح الحديبية فتحاً مبيناً للمسلمين.

نموذج (٢)

السؤال الأول

أمامك خريطة صماء للوطن العربي ، اكتب الأرقام أمام العبارات التي تتناسب معها:



- ١ يشير الرقم (.....) إلى دولة يفضل سكانها سكنى الجبال.
- ٢ يشير الرقم (.....) إلى دولة تكثر بها الوفيات.
- ٣ يشير الرقم (.....) إلى دولة تقوم بالتعداد السكاني كل خمس سنوات.
- ٤ يشير الرقم (.....) إلى منطقة ينمو بها الحشائش القصيرة.

السؤال الثاني

اختر الإجابة الصحيحة مما بين الأقواس:

- ١ من العوامل الطبيعية التي تؤثر في توزيع السكان في الوطن العربي
(النقل والمواصلات - الصناعة - التعدين - المناخ)
- ٢ تسقط الأمطار في الإقليم المداري في فصل
(الشتاء - الخريف - الصيف - الربيع)
- ٣ بدأت مرحلة من السنة الثالثة من البعثة. (سرية الدعوة - الجهر بالدعوة - عالمية الدعوة - مواجهة المعتدين)
- ٤ كانت تأتي بالطعام إلى الرسول ﷺ وأبي بكر الصديق رضي الله عنه في غار ثور.
(أسماء بنت أبي بكر - عائشة بنت أبي بكر - السيدة فاطمة - السيدة زينب)

السؤال الثالث

ما المقصود بكل من ...؟

- ١ الأنصار:
- ٢ الغزوة:
- ٣ المناخ القاري:

السؤال الرابع

أثبت صحة أو خطأ العبارة التالية:

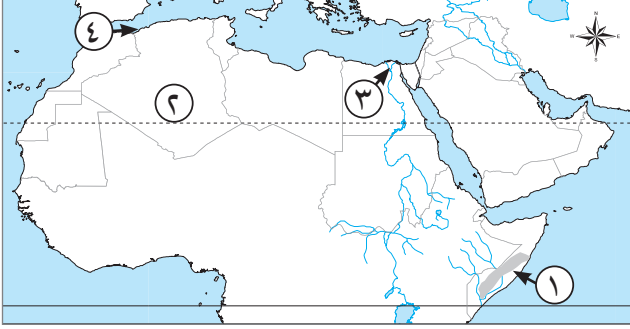
- انهزم المسلمون في غزوة «أحد» لمخالفة البعض لأوامر الرسول ﷺ.

.....

نموذج (٣)

السؤال الأول

أمامك خريطة صماء للوطن العربي ، وضح ما تدل عليه الأرقام:



- ١ إقليم مناخي
- ٢ إقليم مناخي
- ٣ منطقة مرتفعة الكثافة السكانية جدًا
- ٤ إقليم مناخي

السؤال الثاني

اختر الإجابة الصحيحة مما بين الأقواس:

- ١ من الدول العربية التي تعاني نقصًا في الأيدي العاملة (سوريا - الكويت - مصر - الجزائر)
- ٢ تنمو الغابات المعتدلة فوق جبال (أطلس - البحر الأحمر - عسير - اليمن)
- ٣ قصد الرسول ﷺ لنشر الدعوة بعد فقد عمه وزوجته. (الحبشة - اليمن - الطائف - المدينة)

السؤال الثالث

اكتب كلمة (صواب) أمام العبارة الصحيحة، وكلمة (خطأ) أمام العبارة غير الصحيحة:

- ١ اتخذت سوريا من أشجار الأرز شعارًا لها. ()
- ٢ تتوسط الكثافة السكانية في المناطق الرعوية. ()
- ٣ اقتصر دور المسجد في الإسلام على العبادة فقط. ()
- ٤ كانت مدينة خيبر مركزًا للمؤامرات والدسائس ضد الرسول ﷺ والمسلمين. ()

السؤال الرابع

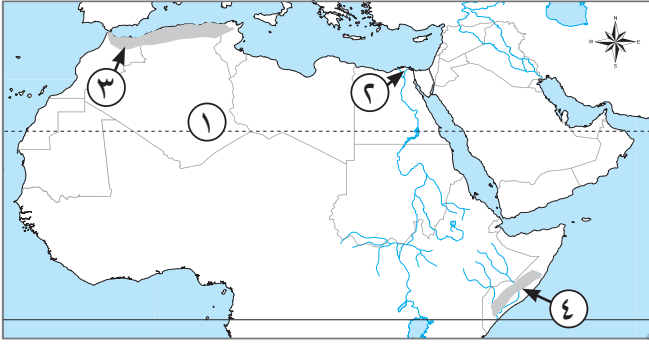
بم تفسر...؟ إصدار الرسول ﷺ لصحيفة المدينة.

.....

نموذج (٤)

السؤال الأول

أمامك خريطة صماء للوطن العربي، وضح ما تدل عليه الأرقام:



- ١ منطقة نادرة السكان
- ٢ منطقة مرتفعة الكثافة السكانية جدًا
- ٣ إقليم مناخ
- ٤ إقليم مناخ

السؤال الثاني

اكتب كلمة (صواب) أمام العبارة الصحيحة، وكلمة (خطأ) أمام العبارة غير الصحيحة:

- ١ تسمى الحشائش الحارة باسم السافانا. ()
- ٢ استمرت الدعوة السرية أربع سنوات. ()
- ٣ عاد الرسول ﷺ بجيشه سالمًا إلى مكة بعد غزوة تبوك. ()

السؤال الثالث

اختر الإجابة الصحيحة مما بين الأقواس:

- ١ أقدم الدول العربية في عمل تعداد السكان (مصر- الأردن- تونس- ليبيا)
- ٢ ترتفع الكثافة السكانية في المناطق الزراعية مثل مصر و (ليبيا - السعودية - السودان - الكويت)
- ٣ قامت الدولة الإسلامية في المدينة على أركان. (ثلاثة - أربعة - خمسة - اثنين)
- ٤ كانت بيعة الرضوان بسبب إشاعة مقتل (أبي بكر الصديق - عمر بن الخطاب - عثمان بن عفان - علي بن أبي طالب)

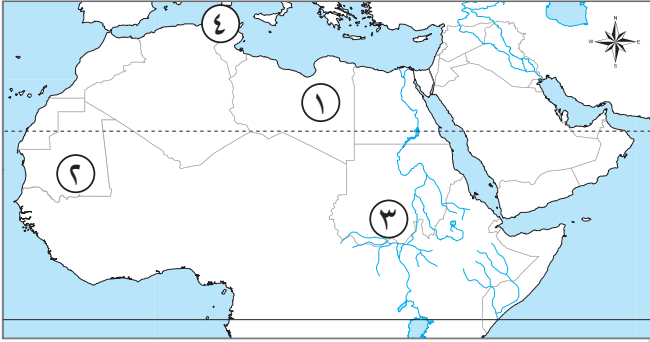
السؤال الرابع

بم تفسر...؟ غزوة تبوك ٩ هـ.

نموذج (هـ)

السؤال الأول

أمامك خريطة صماء للوطن العربي، وضح ما تدل عليه الأرقام:



- ١ يشير الرقم إلى جنوب دولة موريتانيا التي تنتمي إلى إقليم المناخ المداري.
- ٢ يشير الرقم إلى الإقليم الصحراوي.
- ٣ يشير الرقم إلى إقليم البحر المتوسط.
- ٤ يشير الرقم إلى جنوب دولة السودان التي تنتمي إلى إقليم المناخ المداري.

السؤال الثاني

اختر الإجابة الصحيحة مما بين الأقواس:

- ١ من العوامل البشرية التي تؤثر في توزيع السكان بالوطن العربي
(التضاريس - المناخ - الصراعات والحروب - موارد المياه)
- ٢ يعد البلوط الفليني من أهم أشجار الغابات
(المدارية - الاستوائية - الصنوبرية - المعتدلة)
- ٣ أسرى بالرسول ﷺ ليلاً من المسجد الحرام إلى المسجد
(الأموي - النبوي - الأزهر - الأقصى)
- ٤ استأجره الرسول ﷺ ليكون دليلاً أثناء الهجرة
(أبو بكر الصديق - عامر بن فهيرة - عبد الله بن أريقط - علي بن أبي طالب)
- ٥ كانت غزوة تبوك موجهة ضد
(قريش - الروم - الفرس - اليهود)

السؤال الثالث

اكتب كلمة (صواب) أمام العبارة الصحيحة، وكلمة (خطأ) أمام العبارة غير الصحيحة:

- ١ أخى الرسول ﷺ بين الأوس والخزرج بعد هجرته ليثرب. ()
- ٢ في غزوة بدر تحول نصر المسلمين إلى هزيمة. ()

السؤال الرابع

ما النتائج المترتبة على ...؟ تحسن الأحوال الصحية وارتفاع مستوى المعيشة في الوطن العربي.

.....

الأخصاء



الدراسات الاجتماعية

الصف ٢ الإعدادي

الإجابات النموذجية للنماذج الاسترشادية لشهر نوفمبر

العام الدراسي

2024 - 2023

إجابة نموذج (١)

السؤال الأول

١ مرتفعة

٣ المدارى

السؤال الثانى

١ مصر - الجزائر

٣ الصحراوى

السؤال الثالث

١ (خطأ)

٣ (صواب)

السؤال الرابع

- حيث بدأ الرسول ﷺ في إرسال الرسل إلى ملوك ورؤساء العالم يدعوهم إلى الإسلام، وبذلك بدأت مرحلة نشر الدعوة عالمياً ومواجهة كل من يقف أمام تبليغها ونشر فضائلها بين الناس جميعاً.

٢ الكويت

٤ القصيرة

٢ البلوط الفليني - الأرز

٤ المدارى

٢ (خطأ)



إجابة نموذج (٢)

السؤال الأول

- ١ ٣
- ٣ ٢

السؤال الثاني

- ١ المناخ
- ٣ الجهر بالدعوة

السؤال الثالث

- ١ أهل يثرب (المدينة النبوية) الذين بايعوا الرسول ﷺ وأووه ونصروه بأموالهم وأنفسهم.
- ٢ معركة يخوضها المسلمون بقيادة الرسول ﷺ ضد المشركين.
- ٣ مناخ المناطق الداخلية البعيدة عن تأثير المسطحات المائية، ويتصف بارتفاع الحرارة صيفاً وانخفاضها في الشتاء.

السؤال الرابع

- العبارة صحيحة؛ حيث خالف الرماة أوامر الرسول ﷺ، وتركوا أماكنهم لجمع الغنائم، وقد استغل خالد بن الوليد الفرصة، فاستدار من خلف الجبل، وانقض بجيشه على المسلمين، فتحول نصر المسلمين إلى هزيمة.

- ٢ ٤
- ٤ ١

- ٢ الصيف
- ٤ أسماء بنت أبي بكر

إجابة نموذج (٣)

السؤال الأول

١ المدارى

٣ دلتا النيل بمصر

السؤال الثانى

١ الكويت

٣ الطائف

السؤال الثالث

١ (خطأ)

٣ (خطأ)

السؤال الرابع

٢ الصحراوى

٤ البحر المتوسط

٢ أطلس

٢ (خطأ)

٤ (صواب)

- ليضع نظامًا يحدد حقوق وواجبات كل من يقيم بالمدينة كما يحدد علاقتها بمن هم خارجها.



إجابة نموذج (٤)

السؤال الأول

- ١ الصحراء الكبرى (جنوب الجزائر)
- ٣ البحر المتوسط

السؤال الثاني

- ١ (صواب)
- ٣ (خطأ)

السؤال الثالث

- ١ مصر
- ٢ السودان
- ٣ ثلاثة
- ٤ عثمان بن عفان

السؤال الرابع

- إعداد الروم جيشًا كبيرًا لقتال المسلمين والقضاء عليهم.

٢ دلتا نهر النيل بمصر

٤ المدارى

٢ (خطأ)



إجابة نموذج (هـ)

السؤال الأول

١ ٢

٣ ٤

السؤال الثاني

١ الصراعات والحروب

٣ الأقصى

٥ الروم

السؤال الثالث

١ (خطأ)

السؤال الرابع

- أدى إلى: انخفاض معدل الوفيات في الوطن العربي.

١ ٢

٣ ٤

٢ المعتدلة

٤ عبد الله بن أريقط

٢ (خطأ)

